

Prénom : _____

Date : _____

Signature
des
parents


CM1

Evaluation de Maths


Calcul : La division posée

Appréciation

Soin, présentation




1 Pose et effectue ces divisions

8 022 divisé par 5

Le quotient est _____

Le reste est ____ < ____

13 861 divisé par 42

Le quotient est _____

Le reste est ____ < ____


Compétences évaluées

Maîtriser la technique opératoire de la division

Ex 1

Savoir calculer des divisions en ligne, donner le quotient et le reste

Ex 2

4 703 divisé par 7

Le quotient est _____

Le reste est ____ < ____

Table de 42

$42 \times 1 =$

$42 \times 6 =$

$42 \times 2 =$

$42 \times 7 =$

$42 \times 3 =$


$42 \times 8 =$

$42 \times 4 =$

$42 \times 9 =$

$42 \times 5 =$

$42 \times 10 =$



2 Calcule ces divisions en ligne, écris le quotient (Q) et le reste (r)

$54 : 8 \rightarrow Q = _____ \text{ et } r = _____$

$61 : 7 \rightarrow Q = _____ \text{ et } r = _____$

$37 : 5 \rightarrow Q = _____ \text{ et } r = _____$

$43 : 6 \rightarrow Q = _____ \text{ et } r = _____$

$84 : 10 \rightarrow Q = _____ \text{ et } r = _____$

$93 : 11 \rightarrow Q = _____ \text{ et } r = _____$