

Prénom : _____
Date : _____



Evaluation de Maths

Géométrie : droites parallèles et perpendiculaires


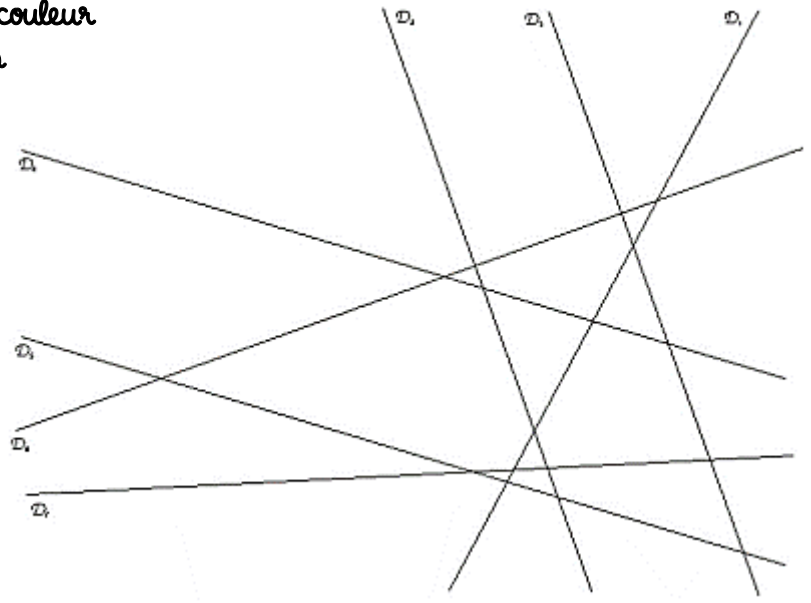
Soin, présentation



Signature
des parents

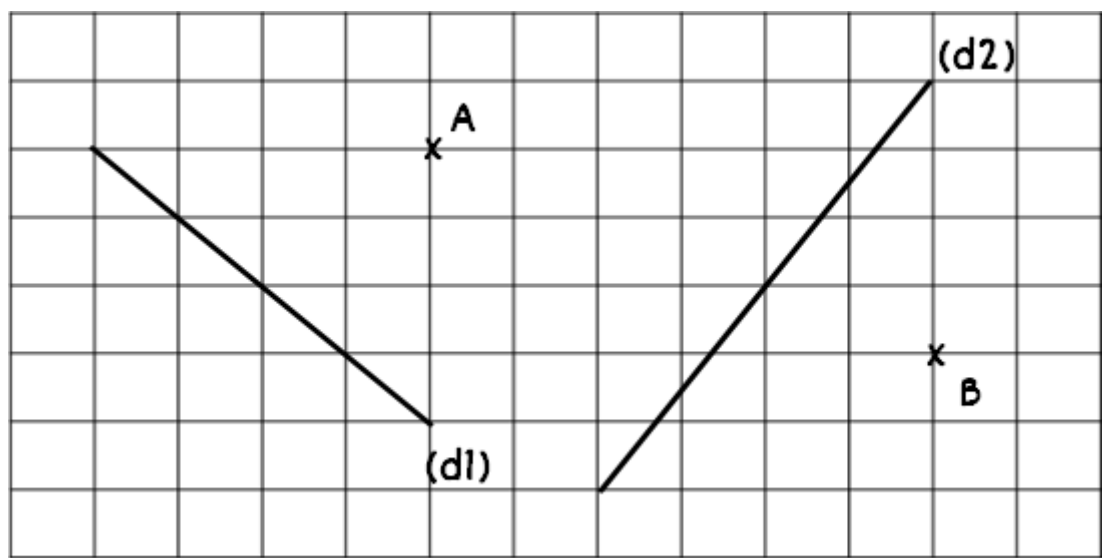
Appréciation

1 Repasse d'une même couleur
les droites parallèles.

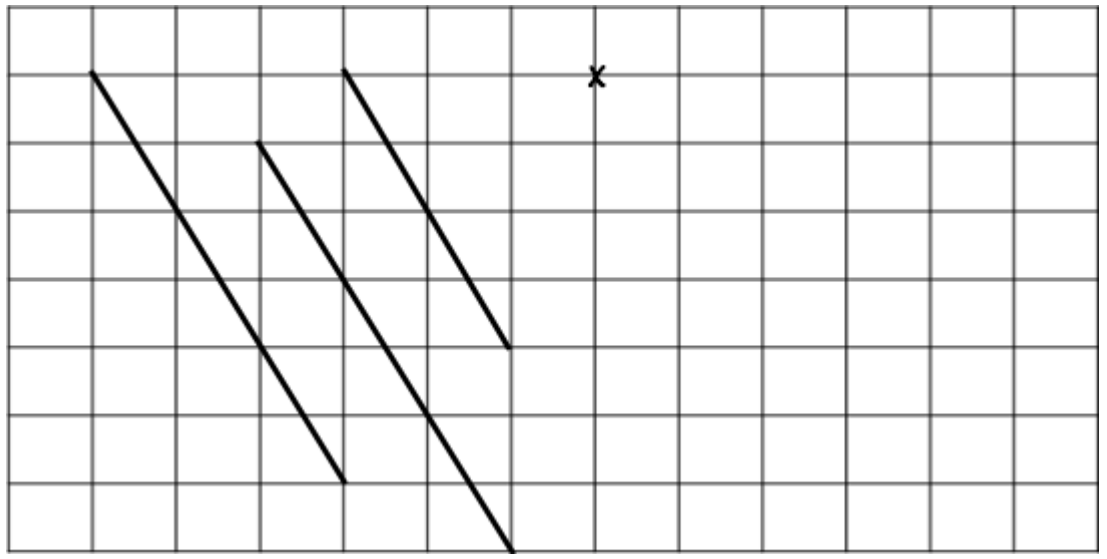


2 Trace sur le quadrillage :

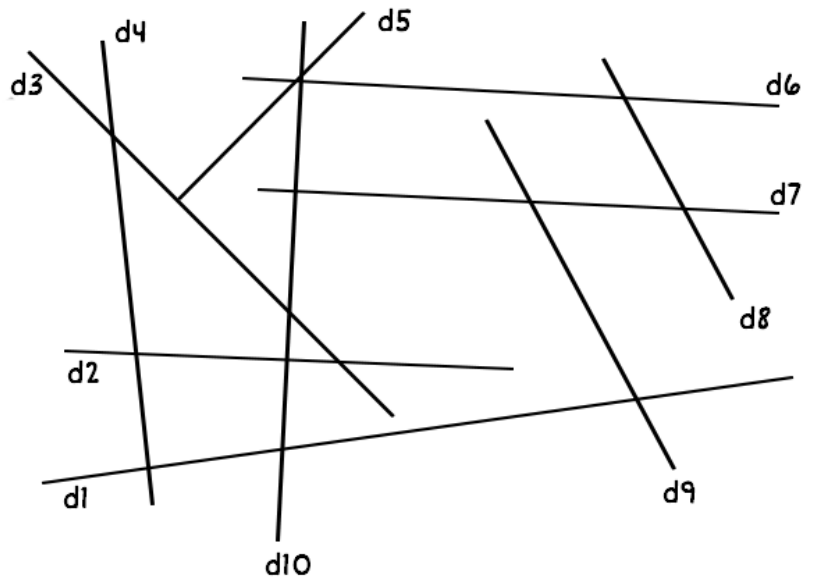
- * Une droite (a) parallèle à (d1) passant par A
- * Une droite (b) parallèle à (d2) passant par B



3 Reproduis ces
droites
parallèles à
partir du point
déjà mis.



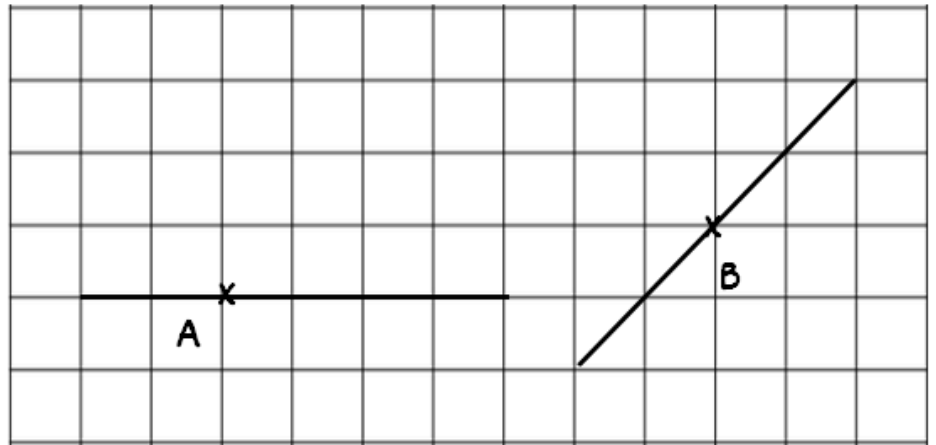
4 Repasse d'une même couleur les droites perpendiculaires et indique l'angle droit en rouge



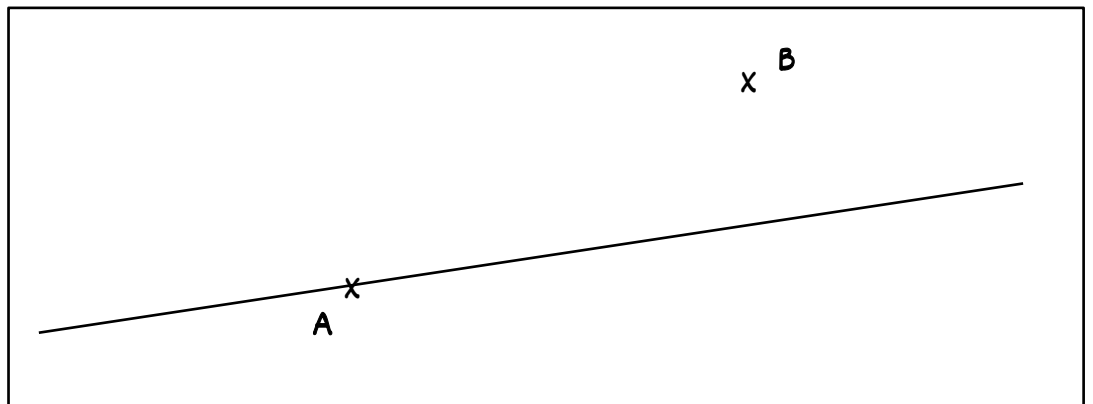
5 Complète le tableau suivant avec les signes // ou \perp :
Utilise la figure de l'exercice précédent.

	d1	d2	d3	d4	d5	d6	d7	d8	d9	d10
d1										
d2										
d3										
d4										
d5										
d6										
d7										
d8										
d9										
d10										

6 Reproduis ces droites perpendiculaires à partir du point déjà mis A et B.



7 Trace des droites perpendiculaires à la droite (d) passant par A puis par B



Compétences évaluées :

Savoir reconnaître des droites parallèles	Ex 1,5	
Savoir tracer des droites parallèles sur quadrillage	Ex 2,3	
Savoir reconnaître des droites perpendiculaires	Ex 4,5	
Savoir tracer des droites perpendiculaires sur quadrillage et sur papier blanc	Ex 6,7	

Compétences évaluées :

Savoir reconnaître des droites parallèles	Ex 1,5	
Savoir tracer des droites parallèles sur quadrillage	Ex 2,3	
Savoir reconnaître des droites perpendiculaires	Ex 4,5	
Savoir tracer des droites perpendiculaires sur quadrillage et sur papier blanc	Ex 6,7	

Compétences évaluées :

Savoir reconnaître des droites parallèles	Ex 1,5	
Savoir tracer des droites parallèles sur quadrillage	Ex 2,3	
Savoir reconnaître des droites perpendiculaires	Ex 4,5	
Savoir tracer des droites perpendiculaires sur quadrillage et sur papier blanc	Ex 6,7	

Compétences évaluées :

Savoir reconnaître des droites parallèles	Ex 1,5	
Savoir tracer des droites parallèles sur quadrillage	Ex 2,3	
Savoir reconnaître des droites perpendiculaires	Ex 4,5	
Savoir tracer des droites perpendiculaires sur quadrillage et sur papier blanc	Ex 6,7	

Compétences évaluées :

Savoir reconnaître des droites parallèles	Ex 1,5	
Savoir tracer des droites parallèles sur quadrillage	Ex 2,3	
Savoir reconnaître des droites perpendiculaires	Ex 4,5	
Savoir tracer des droites perpendiculaires sur quadrillage et sur papier blanc	Ex 6,7	